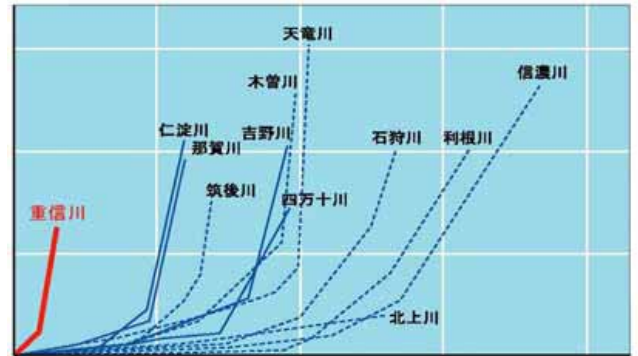


1. 次の文章の()にあてはまる言葉を書きましょう。

- 強い()や()によって起こる自然さい害を『風水害』という。

2. 重信川でこう水が起こる原因についての文章を完成させましょう。

(1)右の図は川の長さとおさを表したグラフです。グラフをみて、次の文の正しい方に○をつけましょう。



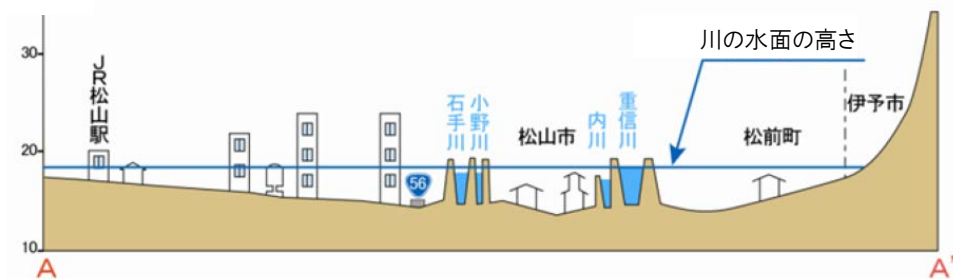
- 重信川は川の長さが (長 ・ 短)い。
- 重信川は川底の傾きが (急 ・ ゆるやか)。

(2)下の図は、重信川が流れる、海のそばの土地の様子断面図です。図をみて()にあてはまる言葉を書きましょう。

川の長さ(km)

- 重信川のまわりの土地の高さは、川の水面の高さより()いところがある。

高さ(m)



3. もし重信川でこう水が起きたら、わたしたちの生活はどうなるのでしょうか。わかったことを書きましょう。

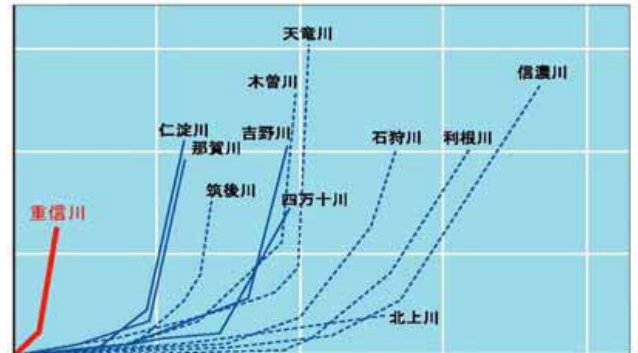
わかったこと

1. 次の文章の()にあてはまる言葉を書きましょう。

- 強い(**風**)や(**大雨**)によって起こる自然さい害を『風水害』という。

2. 重信川でこう水が起こる原因についての文章を完成させましょう。

(1)右の図は川の長さと高さを表したグラフです。グラフをみて、次の文の正しい方に○をつけましょう。



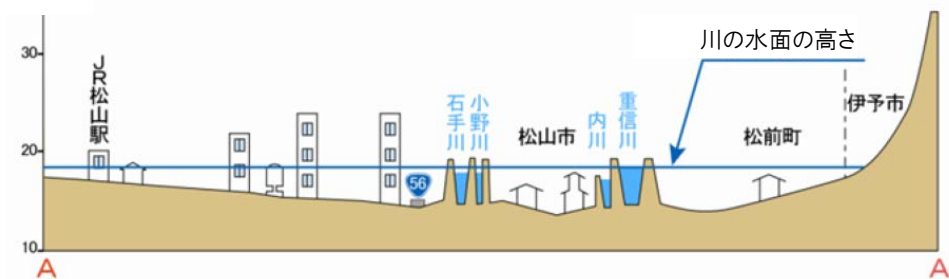
- 重信川は川の長さが (**長** ・ 短) い。
- 重信川は川底の傾きが (急 ・ **ゆるやか**) 。

(2)下の図は、重信川が流れる、海のそばの土地の様子断面図です。図をみて()にあてはまる言葉を書きましょう。

川の長さ(km)

- 重信川のまわりの土地の高さは、川の水面の高さより(**低**)いところがある。

高さ(m)



3. もし重信川でこう水が起きたら、わたしたちの生活はどうなるのでしょうか。わかったことを書きましょう。

わかったこと

- ・家が水につかる。
- ・電気やガスがとまる。
- ・車や電車が動かない。 など